



Осенний Олимп — 2024

# Второй Класс

Москва, 10 ноября



Класс	<input type="text"/>	Код участника	<input type="text"/>	<input type="text"/>	<input type="text"/>	Код комплекта	2	0	0	0	0	0	0
Фамилия	<input type="text"/>												
Имя	<input type="text"/>												
Отчество	<input type="text"/>												

**Задача 2.1.** У Климма есть 3 гвоздя: синий, ржавый и алый. Синий острее ржавого и больше алого. Синий тупее алого и меньше ржавого.

(1) КАКОЙ ГВОЗДЬ САМЫЙ БОЛЬШОЙ? **Ответ:** \_\_\_\_\_

(2) КАКОЙ ГВОЗДЬ САМЫЙ ОСТРЫЙ? **Ответ:** \_\_\_\_\_

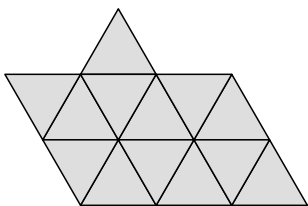
**Задача 2.2.** Кузнец Вакула за 5 дней выковал 16 подков. Больше всего подков он выковал в понедельник. Во вторник и среду он выковал одинаковое количество подков. В четверг он выковал столько подков, сколько выковал во вторник и среду вместе. В пятницу Вакула выковал на три подковы больше, чем в среду. Сколько подков Вакула выковал в каждый из дней?

Напишите, сколько подков он выковал

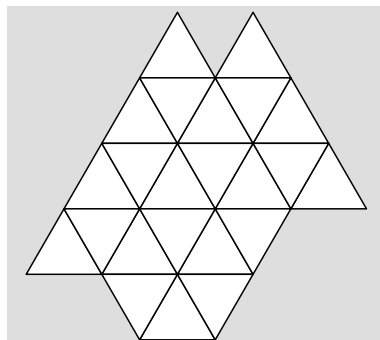
В понедельник	Во вторник	В среду	В четверг	В пятницу
<input type="text"/>	<input type="text"/>	<input type="text"/>	<input type="text"/>	<input type="text"/>

**Задача 2.3.** Слева на рисунке — драгоценный камень Коцея, справа — сундук. Камень надо положить в сундук так, чтобы он целиком туда поместился. Нарисуйте, как камень будет лежать в сундуке. Камень можно поворачивать.

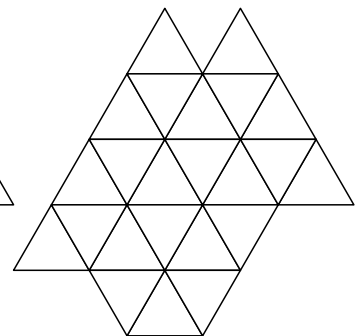
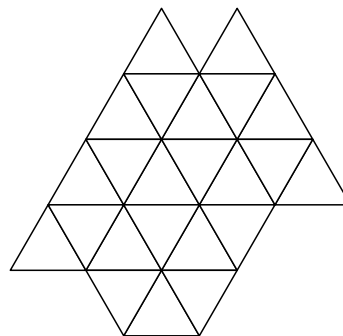
Камень



Сундук

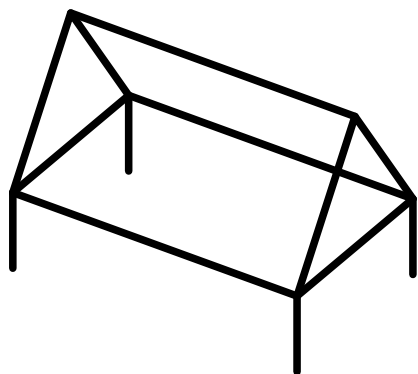


Черновики

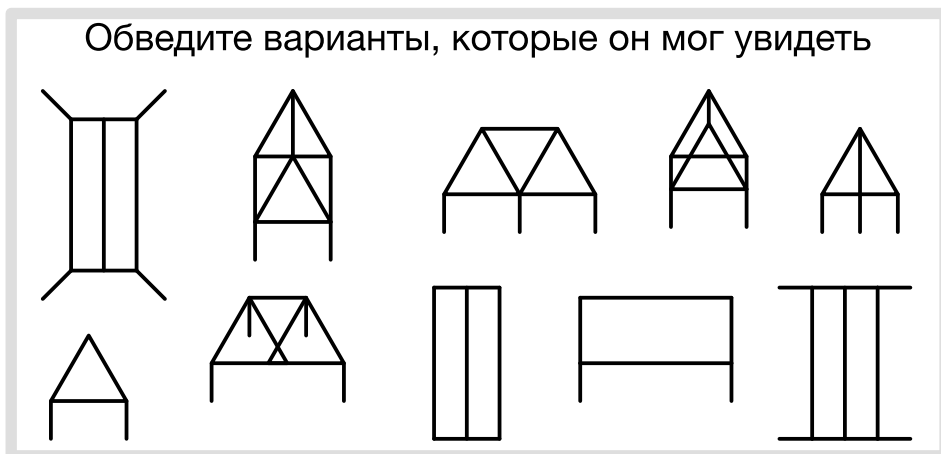


**Задача 2.4.** Одноглазый пират Джо собрал каркас из палок (он изображён на рисунке слева). Затем Джо посмотрел на него с разных сторон. Обведите те варианты, которые Джо мог увидеть.

Каркас из палок




Обведите варианты, которые он мог увидеть




**Задача 2.5.** Расставьте 4 квадратных стула вдоль стен квадратной комнаты так, чтобы рядом со всеми стенами стояло разное количество стульев.

Ответ нарисуйте здесь



Черновик



Черновик

