



Осенний Олимп — 2024

# Первый Класс

Москва, 10 ноября



Класс	<input type="text"/>	Код участника	<input type="text"/>	Код комплекта	1	0	0	0	0	0	0
Фамилия	<input type="text"/>										
Имя	<input type="text"/>										
Отчество	<input type="text"/>										

**Задача 1.1.** У Ефима есть 3 конфеты: «Солнышко», «Груша» и «Апрель». «Солнышко» кислее «Груши» и больше «Апреля». «Солнышко» слаще «Апреля» и меньше «Груши».

(1) КАКАЯ КОНФЕТА САМАЯ БОЛЬШАЯ? **Ответ:** \_\_\_\_\_

(2) КАКАЯ КОНФЕТА САМАЯ КИСЛАЯ? **Ответ:** \_\_\_\_\_

**Задача 1.2.** Кузнец Вакула за 4 дня выковал 13 подков. В понедельник и вторник он выковал одинаковое количество подков. В среду он выковал столько подков, сколько выковал в понедельник и вторник вместе. А в четверг на 3 подковы больше, чем во вторник. Сколько подков Вакула выковал в каждый из дней?

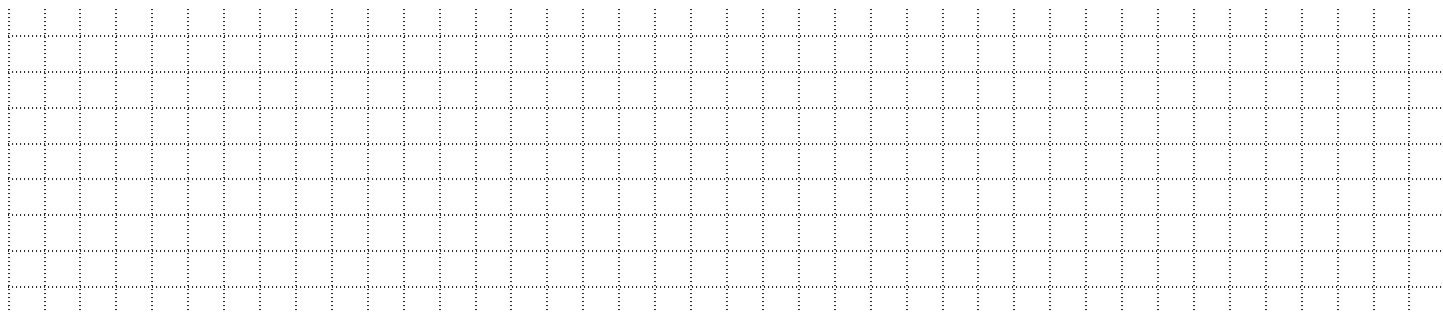
Напишите, сколько подков он выковал

В понедельник	Во вторник	В среду	В четверг
<input type="text"/>	<input type="text"/>	<input type="text"/>	<input type="text"/>

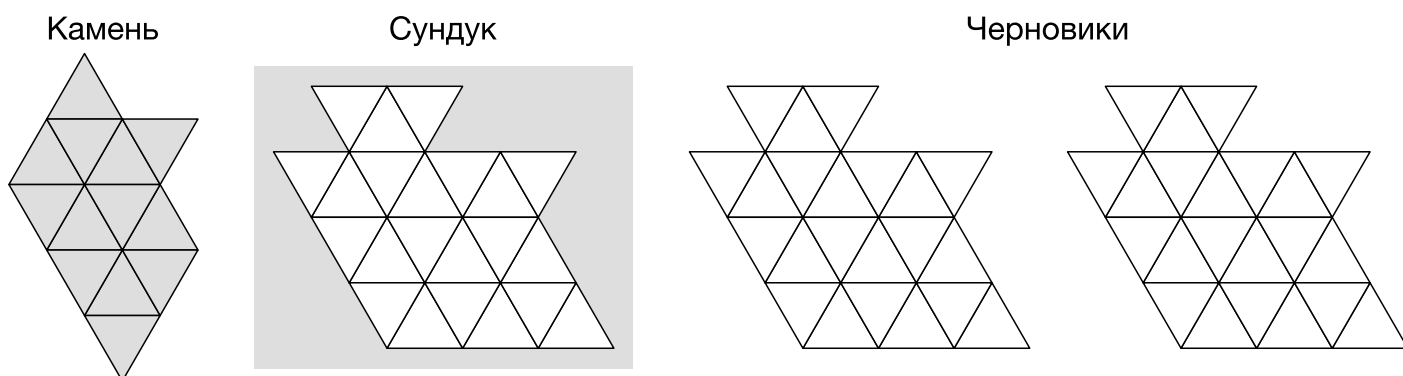
**Задача 1.3.** Танец «Два-хлоп-три-топ» танцуется так: сначала надо два раза хлопнуть, потом три раза топнуть, потом опять два раза хлопнуть, вновь три раза топнуть и так далее, пока танцор не падает без сил. Ефим танцевал этот танец и упал без сил после 21 хлопка. Сколько раз топнул Ефим?

Он топнул: \_\_\_\_\_.

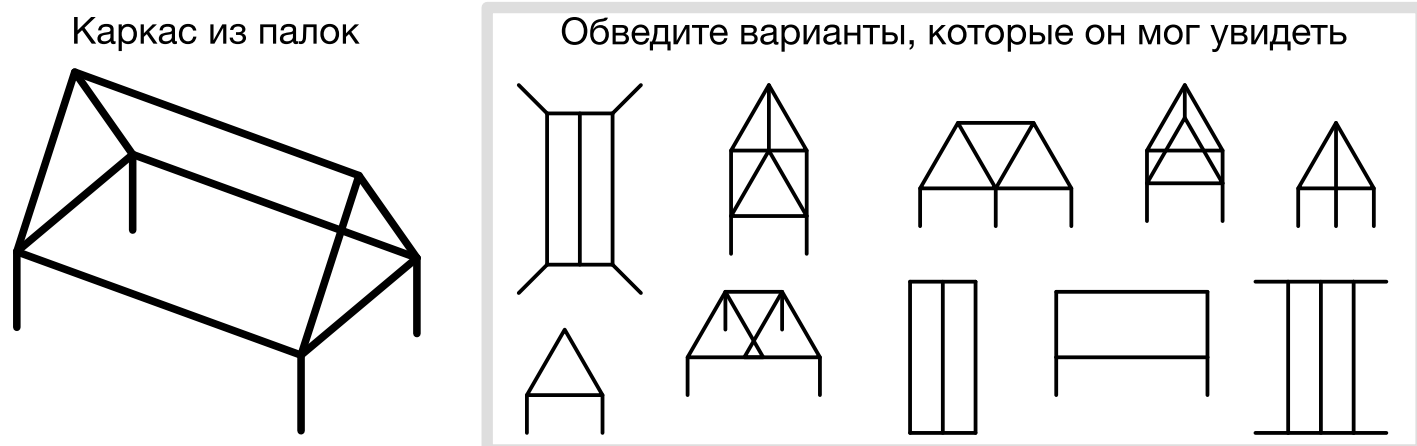
**Здесь можно писать и рисовать схемы**



**Задача 1.4.** Слева на рисунке — драгоценный камень Коцея, справа — сундук. Положите камень в сундук так, чтобы он целиком туда поместился. Камень можно поворачивать.




**Задача 1.5.** Одноглазый пират Джо собрал каркас из палок (он изображён на рисунке слева). Затем он посмотрел на него с разных сторон. Обведите те варианты, которые он мог увидеть.



**Задача 1.6.** Ефим собрал грибы, принёс их продавать на базар и разложил по разным кучкам. Баба-Яга решила купить одну из кучек, да так, чтобы эту кучку можно было разложить на две одинаковые части. Ей не надо было больше 15 грибов, но и меньше 7 грибов её тоже не устраивало. Кучки с каким количеством грибов могли устроить Бабу-Ягу? Найдите все возможные случаи.

**Её могли устроить кучки:** \_\_\_\_\_

**Здесь можно писать и рисовать схемы**



**Задача 1.7.** Афанасий решил поделить 15 карандашей между тремя своими сыновьями. Антону досталось на 5 больше, чем Борису. Борису досталось на 1 меньше, чем Василию. Василию досталось на 4 меньше, чем Антону.

**Напишите, сколько карандашей получил каждый из сыновей**

<b>Антон получил</b>	<b>Борис получил</b>	<b>Василий получил</b>

**Здесь можно писать и рисовать схемы**

